



WikiSara

L'encyclopédie de la Route et des Transports

<http://routes.wikia.com>

Questionnaire

Le Nord-Est

Introduction

Bonjour à tous !

Nous nous « associons » à nouveau pour vous proposer un petit questionnaire sur les transports. Cette fois-ci, il sera uniquement porté sur les 4 principales régions du Nord-Est. Comme la dernière fois, il s'agit de répondre à quelques questions à propos des 14 départements concernés. Vous trouverez ci-dessous toutes les explications nécessaires ainsi que les règles du jeu. En espérant que ce petit questionnaire vous plaira, amusez vous bien !

Jérémy et Arnaud, administrateurs de WikiSara

Sommaire

I] Règles du jeu

II] Les questions

- 1) Alsace
 - a. Le Bas-Rhin (67)
 - b. Le Haut-Rhin (68)
- 2) Champagne-Ardenne
 - a. Les Ardennes (08)
 - b. L'Aube (10)
 - c. La Marne (51)
 - d. La Haute-Marne (52)
- 3) Franche-Comté
 - a. Le Doubs (25)
 - b. Le Jura (39)
 - c. La Haute-Saône (70)
 - d. Le Territoire de Belfort (90)
- 4) Lorraine
 - a. La Meurthe-et-Moselle (54)
 - b. La Meuse (55)
 - c. La Moselle (57)
 - d. Les Vosges (88)
- 5) Questions de synthèse

© Jérémy et Arnaud / WikiSara

<http://routes.wikia.com>

Diffusion, publication et reproduction de ce document interdites sans autorisation écrite de ses auteurs.
Voir le Règlement de WikiSara

I] Règles du jeu

Le règlement est très simple. Vous disposez de 15 jours, jusqu'au 24 02 2008, pour répondre aux 16 questions que nous vous posons.

La première partie du questionnaire comporte 14 questions classées par régions. Il y'a une question par département. Les réponses à ces questions sont relativement courtes ; ne cherchez donc pas 3 jours !!! Cette partie sera notée sur 14 points : un point par question.

La seconde partie demande plus de réflexion et de développement pour vos réponses. Elle comporte deux questions de « synthèse » sur le Nord-Est, qui sont générales. Elles sont sur 3 points chacune.

Pour des raisons « techniques » (lourdeur du pdf notamment), nous avons été obligés de scinder ce questionnaire en trois fichiers distincts, en particulier pour conserver une qualité d'images digne de ce nom. Sans cela, toutes nos photos auraient été grandement détériorées par une forte compression qui se serait révélée nécessaire.

Nous essayerons de corriger vos réponses le plus rapidement possible, en fonction de notre temps libre. Comme la dernière fois, vous recevrez une note sur 20 et une remarque.

Un dernier point important : nous attendons vos réponses sur la page de discussion liée à ce pdf.

Et surtout :

NE TRICHEZ PAS EN REGARDANT LES RÉPONSES SUR WIKISARA OU AUTRE !!!

Amusez vous bien !!!

II] Les questions

Alsace



Commençons avec la région la plus au Nord-Est de France.

L'Alsace est la plus petite région de France métropolitaine. Elle comporte seulement deux départements :

- Le Bas-Rhin (67)
- Le Haut-Rhin (68)

Superficie : 8 280 km²

Nombre d'habitants : 1 817 000 habitants

Densité de population : 219 hab./km²

PIB/habitants : 26 532 € (moyenne nationale : 28 356 €)

Principales villes :

- Strasbourg (272 800 habitants) : préfecture régionale
- Mulhouse (111 700 habitants)
- Colmar (65 300 habitants)

Autoroutes :

- A4 (et son antenne A340)
- A35 (et ses antennes : A350, A351 et A352)
- A36

Routes nationales n'ayant pas été déclassées en 2006 :

- RN59 / RN159
- RN66
- RN83 (continuité autoroutière Sélestat – Colmar uniquement)



© Jérémy et Arnaud / WikiSara

<http://routes.wikia.com>

Diffusion, publication et reproduction de ce document interdites sans autorisation écrite de ses auteurs.
Voir le Règlement de WikiSara

a) Le Bas-Rhin (67)



Présentation du département :

- **Superficie** : 4 755 km²
- **Nombre d'habitants** : 1 026 120 hab.
- **Densité de population** : 216 hab./km²
- **Préfecture** : Strasbourg
- **Sous-préfectures** :
 - Haguenau
 - Molsheim
 - Saverne
 - Sélestat
 - Wissembourg

Question :

Comment se nommait l'antenne reliant l'A35 à la D1083 (ex RN83) au Nord de Sélestat ?



Autoroute A35 dans la Plaine d'Alsace (© Arnaud)



Tramway de Strasbourg (© Arnaud)

© Jérémy et Arnaud / WikiSara

<http://routes.wikia.com>

Diffusion, publication et reproduction de ce document interdites sans autorisation écrite de ses auteurs.
Voir le Règlement de WikiSara

b) Le Haut-Rhin (68)

Conseil Général



Haut-Rhin



Présentation du département :

- **Superficie** : 3 525 km²
- **Nombre d'habitants** : 730 221 hab.
- **Densité de population** : 207 hab./km²
- **Préfecture** : Colmar
- **Sous-préfectures** :
 - Altkirch
 - Guebwiller
 - Mulhouse
 - Ribeauvillé
 - Thann

Question :

A partir d'où l'A36 est-elle concédée à APRR ? Et où débute la section à péage actuellement ?



Voie rapide D83 vers Guebwiller. (© Arnaud)



Colmar, quartier de la « Petite Venise » (© Arnaud)

© Jérémy et Arnaud / WikiSara

<http://routes.wikia.com>

Diffusion, publication et reproduction de ce document interdites sans autorisation écrite de ses auteurs.
Voir le Règlement de WikiSara

Champagne-Ardenne



Seconde région de ce questionnaire, la région la plus à l'ouest : la Champagne-Ardenne.

Cette région englobe 4 départements :

- Les Ardennes (08)
- L'Aube (10)
- La Marne (51)
- La Haute-Marne (52)

Superficie : 25 606 km²

Nombre d'habitants : 1 339 000 habitants

Densité de population : 52 hab./km²

PIB/habitants : 24 738 € (moyenne nationale : 28 356 €)

Principales villes :


- Reims (184 400 habitants)
- Troyes (60 700 habitants)
- Charleville-Mézières (53 000 habitants)

Autoroutes :

- A4, A5, A26, A31, A34

Routes nationales n'ayant pas été déclassées en 2006 :

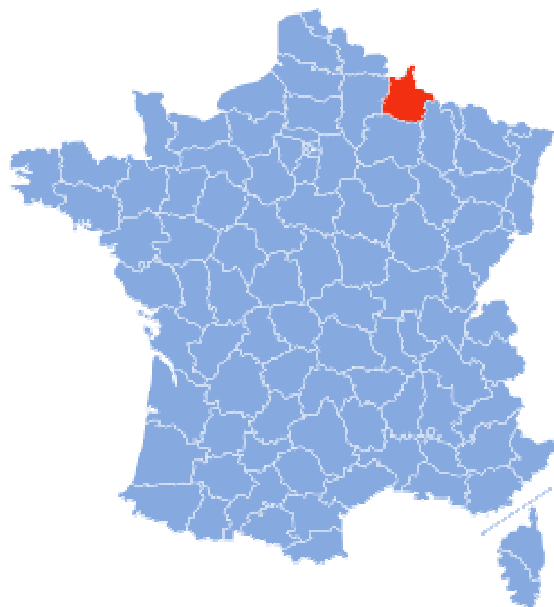
- RN4
- RN19 (section Langres – Delle)
- RN31 (section Rouen – Reims)
- RN43 (section Tremblois-lès-Rocroi - A34 et Wadelincourt - RN58 uniquement)
- RN44 (section A4 – Vitry-le-François)
- RN51 (section Tremblois-lès-Rocroi – Rocroi (Belgique))
- RN58 (section Sedan – Villers-Cernay (Belgique))
- RN67 (section RN4 – A5)
- RN77 (section Auxerre – Troyes)
- RN244 (section A4 – A34)



© Jérémy et Arnaud / WikiSara

<http://routes.wikia.com>

a) Les Ardennes (08)



Présentation du département :

- **Superficie** : 5 229 km²
- **Nombre d'habitants** : 290 130 hab.
- **Densité de population** : 55 hab./km²
- **Préfecture** : Charleville-Mézières
- **Sous-préfectures** :
 - Rethel
 - Sedan
 - Vouziers

Question :

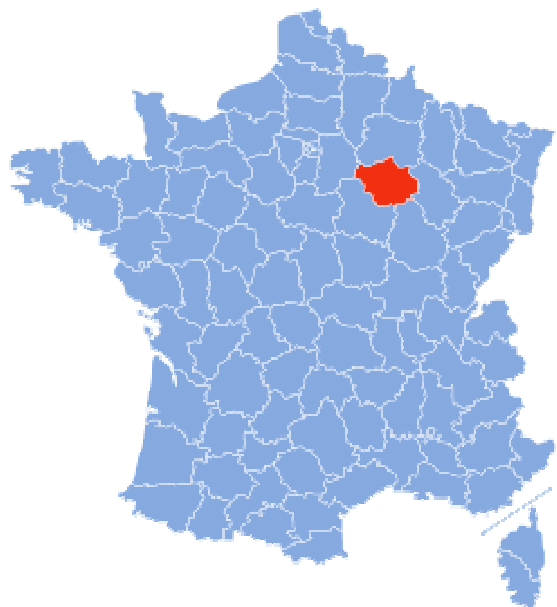
Comment se nommait la D8051A à Tagnon avant 2006 ?



N51 (future A34) à Rethel (© France Autoroutes)



A34 à Faissault (© France Autoroutes)

b) L'Aube (10)**Présentation du département :**

- **Superficie** : 6 004 km²
- **Nombre d'habitants** : 292 131 hab.
- **Densité de population** : 49 hab./km²
- **Préfecture** : Troyes
- **Sous-préfectures** :
 - Bar-sur-Aube
 - Nogent-sur-Seine

Question :

Donnez deux anciennes nationales qui passaient à proximité des lacs de la forêt d'Orient ?



A5 à l'ouest de Troyes (© France Autoroutes)

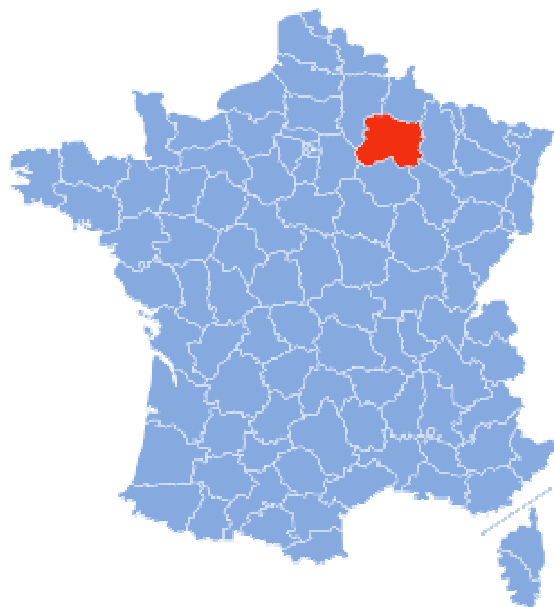


D 810 (ex RN210) à Villechétif près de Troyes (© France Autoroutes)

c) La Marne (51)



LA MARNE



Présentation du département :

- **Superficie** : 8 162 km²
- **Nombre d'habitants** : 565 229 hab.
- **Densité de population** : 69 hab./km²
- **Préfecture** : Châlons-en-Champagne
- **Sous-préfectures** :
 - Epernay
 - Reims
 - Sainte-Menehould
 - Vitry-le-François

Question :

A qui est concédé l'Autoroute A4 dans la traversée de Reims ?



*A34 au niveau de Cernay-les-Reims
(© France Autoroutes)*



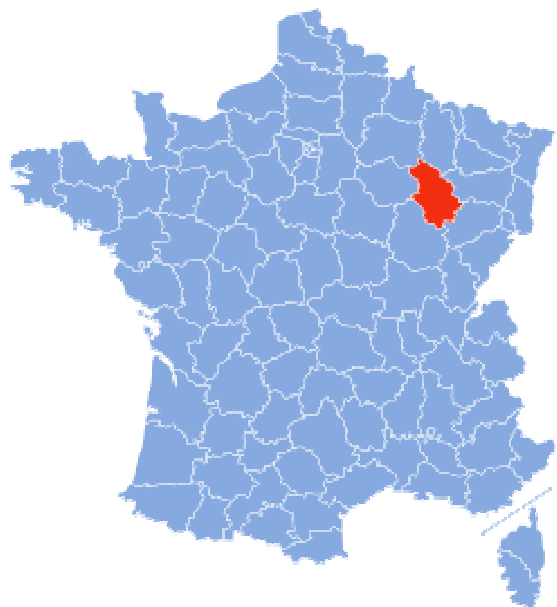
*RN4 à la fin de la déviation de Sommesous
(© Jérémy)*

© Jérémy et Arnaud / WikiSara

<http://routes.wikia.com>

Diffusion, publication et reproduction de ce document interdites sans autorisation écrite de ses auteurs.
Voir le Règlement de WikiSara

d) La Haute-Marne (52)



Présentation du département :

- **Superficie** : 6 211 km²
- **Nombre d'habitants** : 194 873 hab.
- **Densité de population** : 31 hab./km²
- **Préfecture** : Chaumont
- **Sous-préfectures** :
 - Langres
 - Saint-Dizier

Question :

Parmi les trois nationales conservées par l'Etat laquelle ne devait au départ pas être conservée ?



*RN4 entre La Bobotte et Saint-Dizier
(© Jérémy)*



RN67 au nord de Bologne (© Jérémy)

Franche-Comté



Troisième région de notre petit voyage à travers la Nord-Est : la Franche-Comté.

Cette région comporte 4 départements :

- Le Doubs (25)
- Le Jura (39)
- La Haute-Saône (70)
- Le Territoire de Belfort (90)

Superficie : 16 202 km²

Nombre d'habitants : 1 146 000 habitants

Densité de population : 70 hab./km²

PIB/habitants : 24 467 € (moyenne nationale : 28 356 €)

Principales villes :


- Besançon (122 308 habitants) : préfecture régionale
- Belfort (52 521 habitants)
- Montbéliard (27 570 habitants)

Autoroutes :

- A36
- A39 (et son antenne A391)

Routes nationales n'ayant pas été déclassées en 2006 :

- RN5
- RN19
- RN57
- RN83 (liaison Besançon – A391 uniquement)
- RN1019
- RN1057



Franche-Comté
Conseil régional



© Jérémy et Arnaud / WikiSara

<http://routes.wikia.com>

Diffusion, publication et reproduction de ce document interdites sans autorisation écrite de ses auteurs.
Voir le Règlement de WikiSara

a) Le Doubs (25)



Présentation du département :

- **Superficie** : 5 234 km²
- **Nombre d'habitants** : 499 062 hab.
- **Densité de population** : 95 hab./km²
- **Préfecture** : Besançon
- **Sous-préfectures** :
 - Montbéliard
 - Pontarlier

Question :

La RN83 a-t-elle été déclassée dans le Doubs ?



A36 dans la forêt de Chailluz (© Thomas B.)



A36 dans le massif du Doubs (© Thomas B.)

© Jérémy et Arnaud / WikiSara

<http://routes.wikia.com>

Diffusion, publication et reproduction de ce document interdites sans autorisation écrite de ses auteurs.
Voir le Règlement de WikiSara

b) Le Jura (39)



Présentation du département :

- **Superficie** : 4 999 km²
- **Nombre d'habitants** : 250 857 hab.
- **Densité de population** : 50 hab./km²
- **Préfecture** : Lons-le-Saunier
- **Sous-préfectures** :
 - Dole
 - Saint-Claude

Question :

Quelle section de la RN5 a été conservée par l'Etat ?



La RN83 près de Port-Lesney (© Thomas B.)



L'A39 près de Lons-le-Saunier (© Thomas B.)

c) La Haute-Saône (70)



Présentation du département :

- **Superficie** : 5 360 km²
- **Nombre d'habitants** : 234 328 hab.
- **Densité de population** : 44 hab./km²
- **Préfecture** : Vesoul
- **Sous-préfecture** : Lure

Question :

Entre Lure et le Territoire-de-Belfort, par où passe actuellement la RN19 ?



RN19 vers Lure (© Thomas B.)



Passage à faune sur la D64 (© Thomas B.)

d) Le Territoire de Belfort (90)



Présentation du département :

- **Superficie** : 609 km²
- **Nombre d'habitants** : 137 408 hab.
- **Densité de population** : 225 hab./km²
- **Préfecture** : Belfort
- **Sous-préfectures** : *Aucune*

Question :

Quelle est la limite Est de l'élargissement à 2x3 voies de l'A36 ?



BPV de Fontaine-Larivière sur l'A36. (© Thomas B.)



D83 vers Lachapelle-sous-Rougemont (© Arnaud)

© Jérémy et Arnaud / WikiSara

<http://routes.wikia.com>

Diffusion, publication et reproduction de ce document interdites sans autorisation écrite de ses auteurs.
Voir le Règlement de WikiSara

Lorraine



Quatrième et dernière région, la Lorraine.

La Lorraine comporte quatre départements :

- La Meurthe-et-Moselle (54)
- La Meuse (55)
- La Moselle (57)
- Les Vosges (88)

Superficie : 23 547 km²

Nombre d'habitants : 2 239 000 habitants

Densité de population : 98 hab./km²

PIB/habitants : 23 596 € (moyenne nationale : 28 356 €)

Principales villes :


- Metz (124 500 habitants) : préfecture régionale
- Nancy (105 400 habitants)
- Thionville (41 600 habitants)

Autoroutes :

- A4, A30, A31, A33, A313, A314, A315, A320, A330

Routes nationales n'ayant pas été déclassées en 2006 :

- RN4
- RN33 (section Saint-Avold – Allemagne)
- RN52
- RN57 (section Flavigny-sur-Moselle – Besançon)
- RN59
- RN61 (section Hambach – Allemagne) et son antenne RN61a
- RN66
- RN159
- RN333
- RN431

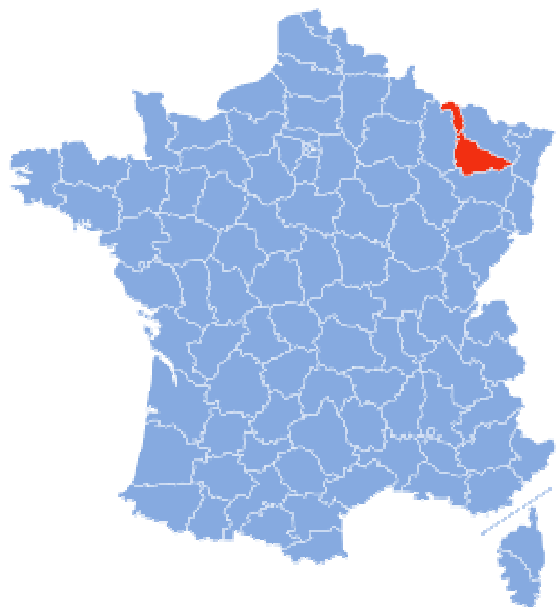


© Jérémy et Arnaud / WikiSara

<http://routes.wikia.com>

Diffusion, publication et reproduction de ce document interdites sans autorisation écrite de ses auteurs.
Voir le Règlement de WikiSara

a) La Meurthe-et-Moselle (54)



Présentation du département :

- **Superficie** : 5 246 km²
- **Nombre d'habitants** : 723 000 hab.
- **Densité de population** : 138 hab./km²
- **Préfecture** : Nancy
- **Sous-préfectures** :
 - Briey
 - Lunéville
 - Toul

Question :

Citez deux endroits faisant partie de la carte des sites pouvant être problématiques pour les poids-lourds et autocars ?



A 31 à l'échangeur avec la RN4 (© Jérémy)

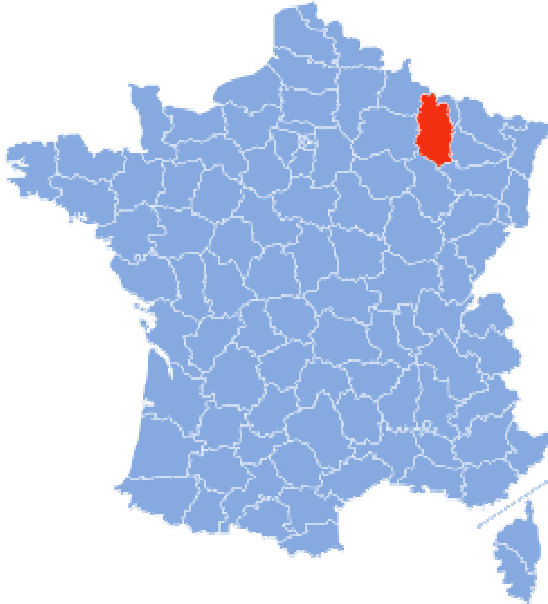



N57 au niveau de Bayon (© France Autoroutes)

© Jérémy et Arnaud / WikiSara

<http://routes.wikia.com>

Diffusion, publication et reproduction de ce document interdites sans autorisation écrite de ses auteurs.
Voir le Règlement de WikiSara

b) La Meuse (55)**Présentation du département :**

- **Superficie** : 6 211 km²
- **Nombre d'habitants** : 192 198 hab.
- **Densité de population** : 31 hab./km²
- **Préfecture** : Bar-le-Duc
- **Sous-préfectures** :
 - Commercy
 - Verdun

Question :

En 1916, la route que l'on nommait simplement "La Route" au Front, était une simple départementale. Mais quel était son numéro ?

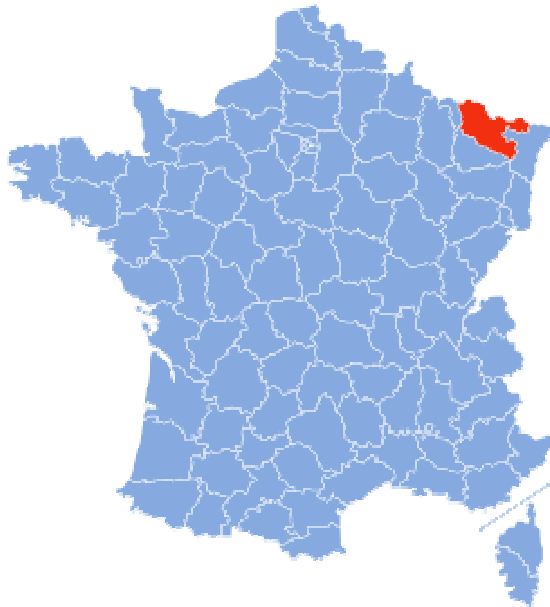


RN4 entre Maulan et Ligny-en-Barrois (© Jérémy)



A4 au niveau de Verdun (© France Autoroutes)

c) La Moselle (57)



Présentation du département :

- **Superficie** : 6 216 km²
- **Nombre d'habitants** : 1 037 000 hab.
- **Densité de population** : 165 hab./km²
- **Préfecture** : Metz
- **Sous-préfectures** :
 - Boulay-Moselle
 - Château-Salins
 - Forbach
 - Sarrebourg
 - Sarreguemines
 - Thionville

Question :

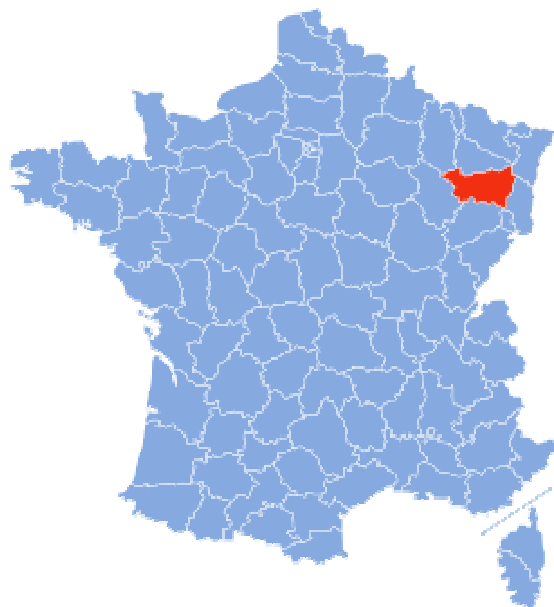
Aujourd'hui, en 2008, où se finit précisément l'A30 ?



*RN431 juste après l'échangeur avec l'A31
(© France Autoroutes)*



*A4 au niveau de la sortie 41.1
(© France Autoroutes)*

d) Les Vosges (88)**Présentation du département :**

- **Superficie** : 5 874 km²
- **Nombre d'habitants** : 380 952 hab.
- **Densité de population** : 65 hab./km²
- **Préfecture** : Epinal
- **Sous-préfectures** :
 - Neufchâteau
 - Saint-Dié-des-Vosges

Question :

Avant 1887, par où passait la RN57 entre Epinal et Luxeuil ? A quelle nationale était rattaché en partie le tracé actuel ?



RN57 au niveau de Pouxieux (© France Autoroutes)



A31 après l'échangeur de Bulgnéville (© France Autoroutes)

III] Questions de synthèse

Dans cette section, nous avons retenu un axe routier et un axe ferroviaire étant relativement importants dans le quart nord-est de la France. Une question dont la réponse doit être plutôt développée vous sera posée pour chacun de ces axes. Chaque question sera notée sur 3 points.

1) L'autoroute A4

L'autoroute A4 est une des plus longues autoroutes de France. Elle relie Paris à Strasbourg en s'embranchant sur le boulevard périphérique côté parisien et sur l'A35 côté strasbourgeois.

Connaissez-vous bien le Nord-Est ? Donnez 12 sites touristiques situés dans un rayon de 20 km le long de l'A4. Attention, si vous donnez une ville, le nom de la ville ne nous suffit pas, on veut savoir ce qu'il y'a d'intéressant dans la ville ! Et Paris ainsi que le reste de l'Île-de-France ne nous intéresse pas !

2) La LGV Est-Européenne

La LGV Est-Européenne est la dernière plus récente ligne à grande vitesse française. Le célèbre TGV s'est donc ouvert vers l'Est de la France mais cette ligne nouvelle a aussi permis l'apparition de l'ICE sur notre réseau ferré national. Le TGV Est remporte un vif succès : sur la principale relation, Paris - Strasbourg, il possédait déjà 60% des parts de marché en octobre 2007, 4 mois seulement après le premier service commercial du TGV à l'Est.

Quelles sont les limites exactes de la LGV Est actuellement ? Jusqu'à où sera-t-elle précisément prolongée ? Quel type de matériel TGV circule sur cette ligne ? Qui est le célèbre couturier français ayant redessiné l'intérieur des TGV circulant sur la ligne Est pour l'occasion ?

Fin